



Republika Srbsko

MINISTERSTVO OSVETY, VEDY A  
TECHNOLOGICKÉHO ROZVOJA

ÚSTAV PRE HODNOTENIE KVALITY  
VÝCHOVY A VZDELÁVANIA

Meno a priezvisko

Ročník

IV.

Počet bodov v teste

# TEST

## Skupina 2

### 4. ročník základnej školy

SLOVENSKÝ JAZYK

MATEMATIKA

PRÍRODA A SPOLOČNOSŤ

## Pokyny pre prácu

Pred tebou sa nachádza test s 20 úlohami – zo slovenského jazyka, matematiky a prírody a spoločnosti. Na vypracovanie je určené 90 minút.

Píš čitateľne, slovenskou abecedou.

Daj pozor na to, že sa úlohy líšia podľa spôsobu, akým treba dať odpoveď. Niektoré úlohy vyriešiš tak, že odpoveď napíšeš na čiaru. V iných úlohách treba vyfarbiť krúžok pred správnu odpoveďou, ako je uvedené v nasledovnom príklade:

Ktorému **slovenému druhu** prislúcha podčiarknuté podstatné meno vo vete?

Nina celkom pekne hovorí.

Vyfarbi krúžok pred správnu odpoveďou.

- podstatné meno
- sloveso
- prídavné meno
- zámeno

### Riešenie

- podstatné meno
- sloveso
- prídavné meno
- zámeno

V každej úlohe si pozorne prečítaj, čo sa od teba žiada a ako máš splniť to, čo sa od teba očakáva.

**NECH SA TI DARÍ!**

## SLOVENSKÝ JAZYK

1. Podčiarkni slová, v ktorých sa **de, te, le, ne** vyslovuje tvrdo.

jeden, desať, diktát, Peter, ticho, nedeľa, čierne, ten, Martina

2. V uvedenej vete podčiarkni **zámeno**.

Čoskoro sa ty staneš dobrou žiačkou, uvidíš!

3. Urč, čo zastupuje podčiarknuté slovo vo vete.

Hanka a Juraj každoročne chodia na oddych k moru.

Vyfarbi krúžok pred správnu odpoveďou.

Podčiarknuté slovo je vo vete:

- prívlastok
- viacnásobný podmet
- prísudok
- predmet

4. V texte *Starec a jablone* podčiarkni **opytovaciu** vetu.

Starec sadil jablone.

Vraveli mu:

– Načo sú ti tie jablone? Veľa času prejde, kým zarodia. Ty z nich už nezješ ani jabĺčko.

Starec povedal:

– Ja nezjem, ale zjedia iní. A budú mi vďační.

*Lev Nikolajevič Tolstoj*

5. Vyfarbi krúžok pred radom, v ktorom sú všetky slová napísané správne.

- tichosť, myšlienka, záhada, otázka
- medveď, ľiška, veverica, d'aťeľ
- Julka, Vjerka, Zuzanka, Aňička
- priroda, slnječko, vetrík, oblaky

6. Vysvetli slová: *hádzat' veci hlava-nehlava*. Zvoľ si jednu z ponúknutých odpovedí a vyfarbi krúžok pred tou odpoveďou.

- rozhadzovať veci kdekoľvek
- hádzat' veci vždy na rovnaké miesto
- nevedieť ako upratať veci
- nestarať sa o svoje veci

7. Pozorne si prečítaj uvedený text.

### Havran a líška

Havran raz kdesi uchytil kus syra. Vyletel na vysoký strom, aby ho tam na pokoji zožral. Zbadala ho líška.

Dobehla pod strom a začala havrana chváliť:

„Ó, milý havran, aký si pekný, krásny.“

Havran mal syr v zobáku.

„A keby si vedel niečo porozprávať.“

Havran chcel hovoriť. Otvoril zobák a syr mu vypadol.

Líška ho uchytila, zožrala a havrana vysmiala.

*Podľa Ezopa*

Ktorá z viet patrí na záver bajky?

Vyfarbi krúžok pred správnou odpoveďou.

- Líška oľutovala, čo urobila.
- Havran líške odpustil a priatelil sa s ňou aj naďalej.
- Tak sa skončilo priateľstvo líšky s havranom.
- Na strome bol zvonec, bajke je koniec.



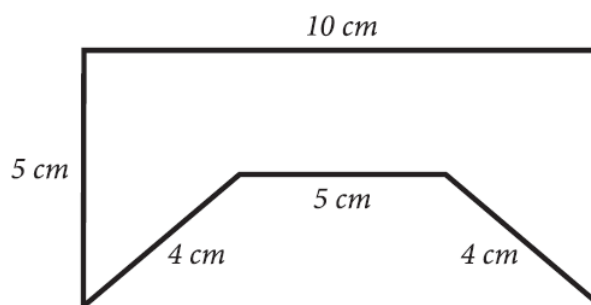
## MATEMATIKA

8. Vypočítaj:

a)  $162 \cdot 6$  \_\_\_\_\_

b)  $162 : 6$  \_\_\_\_\_

9. Vypočítaj obvod geometrického útvaru na obrázku.



Obvod útvaru na obrázku je \_\_\_\_\_ cm.

10. Tatiana šla do obchodu a zobrala si bankovky znázornené na obrázku.

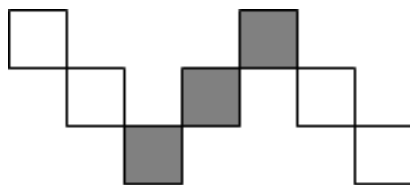


Koľko peňazí si úhrnne Tatiana zobrala do obchodu?

Vyfarbi krúžok pred správnou odpoveďou.

- 580 dinárov
- 630 dinárov
- 780 dinárov
- 870 dinárov

11. Ktorá časť obrázku je zatienená?



Vyfarbi krúžok pred správnu odpoveďou.

- $\frac{4}{7}$         $\frac{7}{3}$         $\frac{3}{7}$         $\frac{3}{4}$

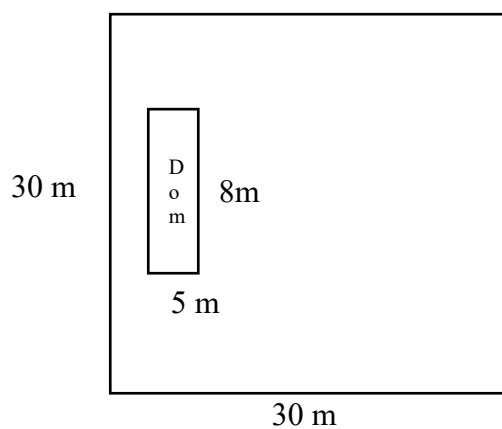
12. Mira od svojho k babkinmu domu šla pešo 1 hodinu a 25 minút. U starkej sa zdržala 40 minút a potom sa s ockom vrátila domov autom za 15 minút. Koľko minút úhrne Mira strávila mimo domu?

Mira strávila úhrne \_\_\_\_\_ minút mimo domu.

13. Od súčtu čísel 1056 a 792 odčítaj rozdiel čísel 693 a 33.

Odpoveď: \_\_\_\_\_

14. Na pozemku v tvare štvorca so stranou 30 m je vystavaný dom tvaru obdĺžnika dĺžky 8 m a šírky 5 m. Aký povrch zvýšil na trávnik?



Plocha trávnik je \_\_\_\_\_ m<sup>2</sup>.

## PRÍRODA A SPOLOČNOSŤ

15. Ako sa volá hymna Srbska?

Vyfarbi krúžok pred správnou odpoveďou.

- Hej, Slovania
- Bože pravde
- Pochod na Drinu
- A tam ďaleko

16. Pozorne si prečítaj text a odpovedz na otázku.

Ľudia sa k tejto skupine pridávajú kvôli deľbe práce, pretože žiaden muž nemôže všetko. Rôzne služby umožňujú všetkým členom tejto skupiny zaobstarat' si jedlo, dostať lekárske ošetrovanie, školu a cítiť sa bezpečne.

Aká je toto skupina?

Vyfarbi krúžok pred správnou odpoveďou.

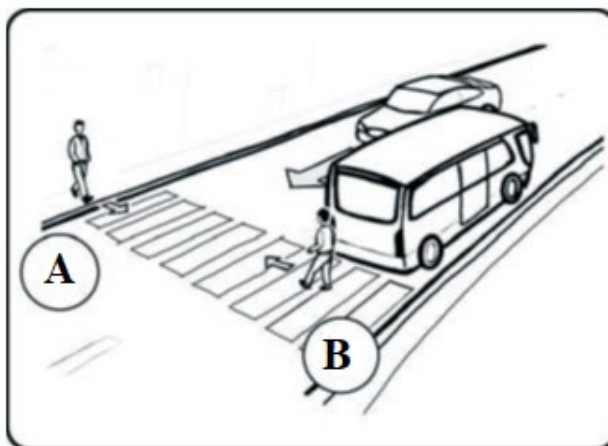
- rodina
- škola
- nemocnica
- sídlo

17. Na obrázku sú dvaja chodci, ktorí prechádzajú cez ulicu.

Ktorý z nich je v **ohrození**?



Vyfarbi krúžok pred správnou odpoveďou.

- chodca A
- chodca B



18. Ktorému pracovníkovi bude premiestňovanie bremena najjednoduchšie?

Vyfarbi krúžok pred správnu odpoveďou.



19. Čo bráni koreňom rastlín?

Vyfarbi krúžok pred správnu odpoveďou.

- vymývanie pôdy
- znečistenie pôdy
- vysušanie pôdy
- hnojenie pôdy

20. Ktoré z uvedených charakteristík sú **spoločné pre všetky živé bytosti**?

Vpíš ✓ do štvorčekov pred každú správnu odpoveď.

- letia
- stravujú sa
- rodia sa
- hovoria
- zomierajú
- dýchajú