



Република Србија  
МИНИСТЕРСТВО ПРОСВЕТИ,  
НАУКИ И ТЕХНОЛОГИЈНОГО  
РАЗВОЈА

ЗАВОД ЗА ВРЕДНОВАЊЕ КВАЛИТЕТА  
ОБРАЗОВАЊА И ВОСПИТАЊА

Мено и презвико

Одзелене

IV

Число бодох на тесту

# ТЕСТ

## Група 2

### 4. класа основней школи

РУСКИ ЯЗИК

МАТЕМАТИКА

ПРИРОДА И ДРУЖТВО

## Упутство за роботу

Пред тобу тест котри ма 20 задатки – зоз руского языка, математики и природи и дружтва. За роботу предвидзени 90 минути.

Пиш читко, зоз рускима буквами.

Обрац увагу на тото же ше задатки розликую по способе на яки маш дац одвит.

Даєдни задатки будзеш ришовац так же одвит упишеш на линию. У других задаткох треба офарбиц крущок опрез точного одвиту, як у шлїдуюцим прикладу:

До якей **файти** **словох** припада подцагнуте слово у виреченю?

Нина барз крашне приповеда.

Офарб крущок опрез точного одвиту.

- меновнік
- дієслово
- прикметнік

### Ришенє

- меновнік
- дієслово
- прикметнік
- заменовнік

У каждам задатку з увагу пречитай цо маш поробиц и роздумай як одвитуєш на питанє.

**ЖИЧИМЕ ЦИ УСПИХУ У РИШОВАНЮ ЗАДАТКОХ!**

## РУСКИ ЯЗИК

1. Офарб кружок опрез виреченя у котрим у писаню правилно похасноване **словко не**.

- Не добри приклади не треба шлїдзиц.
- Недобри приклади не треба шлїдзиц.
- Недобри приклади не треба шлїдзиц.
- Не добри приклади не треба шлїдзиц.

2. У шлїдуючим виреченю подцагні **дієслово**.

Троме хлапци зоз нашого оддзеленя ше зложно бавя цали дзень.

3. Одредз **службу** подцагнутого слова у виреченю!

Наштред двора гурчи стари дідов трактор.

Офарб кружок опрез точного одвиту.

- обект
- предикат
- субект
- додаток за место

4. Подцагні **розповедне виреченє**.

На кельо годзин маю сцигнуц госци?  
Мац упекла смачну лісковцову тарту.  
Яки красни тоти туліпани!

5. Офарб кружок опрез одвиту котри ма **подобне значенє** як подцагнуте слово.

Ганьблїву любичицу у густей трави вше пренайду пчолки, а пипинє найчастейше керую.

- любя
- заобиходза
- хваля
- гледаю

6. Подцагні часц текста котра прадставя **опис**.

И вони рушели весело до горох. Небо було цме белаве, а наштред неба бліщало ше слунко и ошвицовало желени горски схили. Гайди подскаковала геваль-тамаль и кричала од радосци.

7. З увагу пречитай стихи.

Моя улїчка – кошнічка.  
Не една...  
вельо кошніци,  
вельки и мали,  
цо их ту людзе  
пошоровали.

Цо поета посцигнул зоз поровнованьом улїчки зоз кошнічку?

Офарб круцок опрез точного одвиту.

- Описал як людзе шорую кошніци.
- Сликвито прадставел випатрунок хижох у улїчки.
- Указал же людзе у тей улїчки любя пчоли.
- Поровнал кошніци по велькосци.

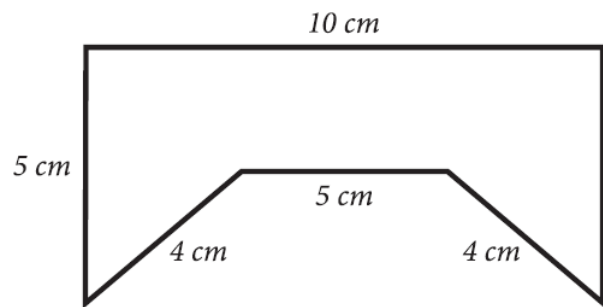
## МАТЕМАТИКА

8. Вирахуй:

а)  $162 \cdot 6$  \_\_\_\_\_.

б)  $162 : 6$  \_\_\_\_\_.

9. Вирахуй обсяг фігури на слики.



Обсяг фігури на слики \_\_\_\_\_ см.

10. Таня рушела до предавальні и вжала пенєжи приказани на слики.

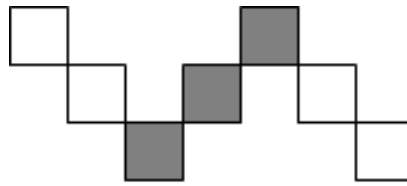


Кельо вкупно пенєжи Таня вжала до предавальні?

Офарб крушок опрез точного одвиту.

- 580 динари
- 630 динари
- 780 динари
- 870 динари

11. Котра часц фігуры офарбена зоз шыву фарбу?



Офарб крушок опрез точного одвиту.

- $\frac{4}{7}$         $\frac{7}{3}$         $\frac{3}{7}$         $\frac{3}{4}$

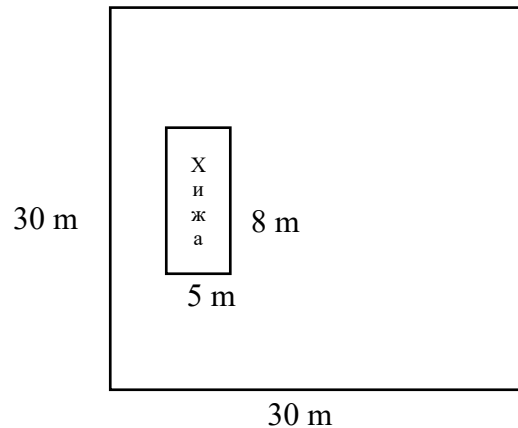
12. Марча од своей по бабову хижу ходзела 1 годзину и 25 минути. У баби ше затримала 40 минути, а потим ше зоз татом врацела дому на авту за 15 минути. Кельо вкупно минути Марча препровадзела вонка з дому?

Марча вкупно препровадзела \_\_\_\_\_ минути вонка з дому.

13. Од суми числох 1 056 и 792 одней розлику числох 693 и 33.

Одвит: \_\_\_\_\_

14. На жеми квадратней форми чия страна 30 m вимурована хижа у форми правоугелніка длужини 8 m и ширини 5 m. Яка поверхносц остала за травнік?



Поверхносц травніка \_\_\_\_\_ m<sup>2</sup>.

## ПРИРОДА И ДРУЖТВО

15. Як ше вола гимна Сербиї?

Офарб кружок опрез точного одвиту.

- Гей, Славянє (Хеј, Словени)
- Боже правди (Боже правде)
- Марш на Дрину
- Там далско (Тамо далеко)

16. З увагу пречитай текст и одвитуј на питанє.

Людзе ше здружую до тей групи пре подзелєне роботох, бо ані єден человек не зна шицко робиц. Розлични служби оможливаю шицким членом тей групи набавиц єдзєне, лїчиц ше, школовац и чувствовац ше сигурно и безбечно.

Котра то група?

Офарб кружок опрез точного одвиту.

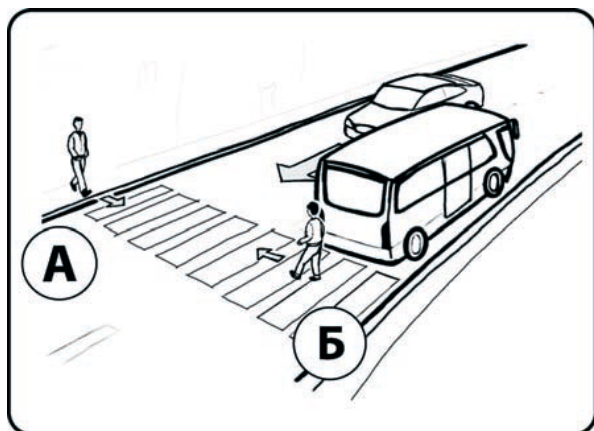
- фамелия
- школа
- шпиталь
- населєне

17. На слики приказани двоє пешаки котри преходза улїцу.

Хто з нїх у **опасности**?

Офарб кружок опрез точного одвиту.

- пешак А
- пешак Б



18. Котрому робітникові буде найлегче порушати терху?  
Офарб кружок опрз точного одвиту.



19. Цо корень рошлінох онеможлівює?

Офарб кружок опрз точного одвиту.

- вимиванє жеми
- загадзованє жеми
- висушованє жеми
- гноєнє жеми



20. Котри зоз наведзених характеристикох заєднічки за шицки живи єства?

Упиш ✓ до квадратицкох опрз шицких точних одвитох.

- леца
- карма ше
- родза ше
- бешедую
- умераю
- дихаю

