



Република Србија
МИНИСТЕРСТВО ПРОСВЕТИ,
НАУКИ И ТЕХНОЛОГИЈНОГО
РАЗВОЈА

ЗАВОД ЗА ВРЕДНОВАЊЕ КВАЛИТЕТА
ОБРАЗОВАЊА И ВОСПИТАЊА

Мено и презвико

Одзелене

IV

Число бодох на тесту

ТЕСТ

Група 1

4. класа основней школи

РУСКИ ЯЗИК

МАТЕМАТИКА

ПРИРОДА И ДРУЖТВО

Упутство за роботу

Пред тобу тест котри ма 20 задатки – зоз руского языка, математики и природи и дружтва. За роботу предвидзени 90 минути.

Пиш читко, зоз рускима буквами.

Обрац увагу на тото же ше задатки розликую по способе на яки маш дац одвит.

Даєдни задатки будзеш ришовац так же одвит упишеш на линию. У других задатках треба офарбиц крушок опрез тачного одвиту, як у шлїдуюцим прикладу:

До якей **файти** **словох** припада подцагнуте слово у виреченю?

Нина барз крашне приповеда.

Офарб крушок опрез точного одвиту.

- меновнік
- дієслово
- прикметнік

Ришенє

- меновнік
- дієслово
- прикметнік
- заменовнік

У каждым задатку пречитай з увагу цо маш поробиц и роздумай як одвитуєш на питанє.

ЖИЧИМЕ ЦИ УСПИХУ У РИШОВАНЮ ЗАДАТКОХ!

РУСКИ ЯЗИК

1. У кождим пару подцагні слово котре правильно написане.

яблуко – йяблуко лєвица – лєвица дідо – дьидо

2. Офарб крущок опрез виреченя у котрим похасновани **меновнік у множини**.

- Змокнути тащок бул гладни.
- Послухай ме и будз вреднейши школяр.
- Ниново гушата весело плїваю.
- Марча давно пречитала кнїжку.

3. У шлїдуючим виреченю подцагні **прикметнік**.

Неодлуга и ти будзеш добри фодбалер, увидиши!

4. Одредз **службу** подцагнутого слова у виреченю.

Глїняна кантичка стої у бабовим ормане.

Офарб крущок опрез точного одвиту.

- субект
- обект
- предикат
- додаток за место

5. Пречитай шлїдуюци виреченя и роздумай о їх значеню.

Сенка немирно шпи. Кед лєм дацо шушнє, вона ше зобудзи.

Офарб крущок опрез одвиту котри описує як Сенка шпи.

- як дзело
- як заяц
- як мале дзецко
- як коритнявка

6. До кружка опрез каждого прикладу упиш одвитуоче число котре означує кніжовну **файту**. Єдна кніжовна **файта** звишок.

1. народна писня 2. загадка 3. сказка 4. присловка 5. басна

Цо не жадаш себе, не роб ані другому.

Кед ше страка одавала,
Шицки птахи поволала,
Лем забула сваху сову,
Та думала вибрац нову.

Вона з главу риє, а зоз хвостом шиє. (игла)

Вибегнул вовк зоз лєшика пред сарню, котра ведла двойо сарнячата.

7. Як представена єшень у шлїдуючих стихох?

У лєше кед з паучини
перинки за жвиринки тка и шиє,
керпари зоз лісца орубуює,
їжикови посцель розпосцелює
и крадне цеплоту літному слунку,
єшень нам здабе на пестунку.

Офарб кружок опрез точного одвиту.

Єшень жимна и дижджовна.

Єшень жовта и богата.

Єшень цифрована и цепла.

Єшень ма прикмети чловека.

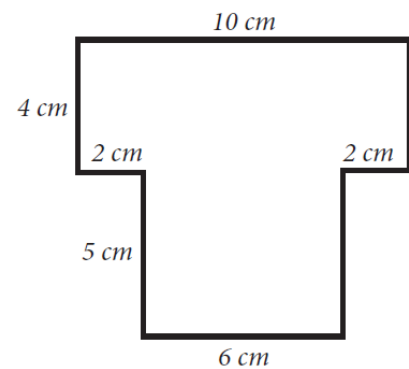
МАТЕМАТИКА

8. Вирахуй:

а) $348 \cdot 6$ _____.

б) $348 : 6$ _____.

9. Вирахуй обсяг фігури на слики.



Обсяг фігури на слики _____ см.

10. Иван шпоровал и поспишло ше му назберац пенєжи приказани на слики.

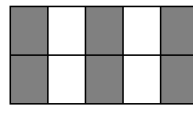
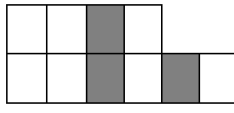
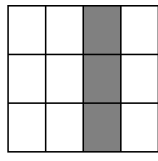
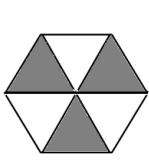


Кельо ведно Иван зашпоровал пенєжи?

Офарб кружок опрез точного одвиту.

- 750 динари
- 550 динари
- 570 динари
- 350 динари

11. На котрей слики зоз шиву фарбу офарбени $\frac{3}{10}$ фигури?
Офарб кружок под точним одвитом.



12. Марча од своей по бабову хижу ходзела 1 годзину и 15 минути. У баби ше затримала 50 минути, а потим ше зоз татом врацела дому на авту за 25 минути.
Кельо вкупно минути Марча препровадзела вонка з дому?

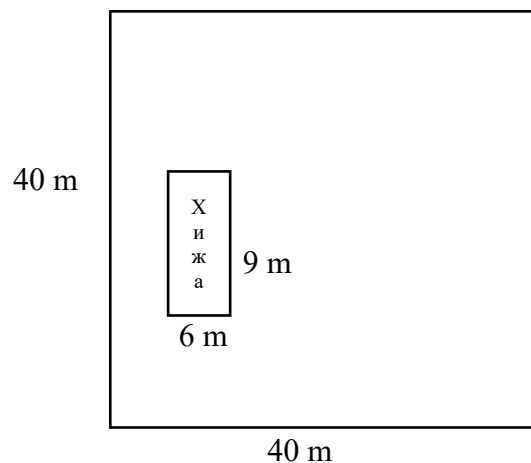
Марча вкупно препровадзела _____ минути вонка з дому.

13. Од суми числох 1 677 и 546 одней розлику числох 468 и 39.

Одвит: _____

14. На жеми квадратней форми чия страна 40 m вимурована хижа форми правоугелніка длужини 9 m и ширини 6 m.

Яка поверхносц остала за травнік?



Поверхносц травніка _____ m².

ПРИРОДА И ДРУЖТВО

15. Хто бул вожд Першого сербского повстаня?

Офарб крушок опрез точного одвиту.

- Милош Обренович
- Карађорде
- цар Душан
- Петар Перши Карађордевич

16. Марко на календаре означел датум преслави Дня школи. На линию упиш котри то дзень у тижню.

Датум: _____

Дзень у тижню: _____

Марец						2008	
П	В	С	Ш	П	С	Н	
					1	2	
3	4	5	6	7	8	9	
10	11	12	13	14	15	16	
17	18	19	20	21	22	23	
24	25	26	27	28	29	30	
31							

17. Пвяж зоз линиями мена значних особох зоз одвитующим описом, як цо започате. Мено едней особи звишок.

Никола Тесла •

• Одкрыл окремну файту оморики, котра рошне на гори Тари.

Милутин Миланкович •

• Описал форми релефу наших крайох и преучовал прикмети жительствова южнославянских жемох.

Стеван Мокрањяц •

• За собу охабел вельке число пренаходкох о електричной енергии.

Йован Цвиїч •

• Найпознатши його діла то *Руковети* – петнац сплети шпиванкох заснованих на фолклорних мотивах.

Йосиф Панчич •

18. Зоз числами означ чи на слики приказане простолинийске, криволинийске чи кружне рушане.
Под каждую слику упиш одвитуоце число.

- 1 – простолинийске
- 2 – криволинийске
- 3 – кружне



19. З увагу пречитай текст.

Єдного вигледовача интересовало у яких условийох нашенька рошлінох виключаю. До двох дунцох, на влажну паперову хусточку положел даскельо зарна кукурици. Єден дунец положел до добре ошвиценой, а други до зацменей просторії. Уобидвох просторийох отримовал єднаку температуру. После штирох дньох вигледовач установел же зарна у обидвох дунцох виключкали.

Цо вигледовач заключел на основи того огляду?
Дополні шлідуоце виреченє.

Рошліна може виключкац без жеми и _____!

20. Цо єст вецей у Сербії – стояци води чи озера?

Владко гвари же на тото питанє не може одвитовац, бо не зна точне число озерох у Сербії. Марко дума же Владко гриши, бо и без пречишльованя мож дац точни одвит.

Хто ма право?
Офарб крущок опрез точного одвиту.

Марко

Владко

Потолкуй прецо.
