



Republica Serbia

MINISTERUL ÎNVĂȚĂMÂNTULUI,
ȘTIINȚEI ȘI DEZVOLTĂRII
TEHNOLOGICE

INSTITUTUL PENTRU EVALUAREA
CALITĂȚII ÎNVĂȚĂMÂNTULUI ȘI
EDUCAȚIEI

Prenumele și numele

Clasa a

IV-a

Numărul total de puncte

Test
Grupa 1
Clasa a IV-a a școlii
elementare
LIMBA ROMÂNĂ
MATEMATICĂ
NATURĂ ȘI SOCIETATE

Instrucțiuni de lucru

În fața ta este un test care conține 20 de întrebări - din limba română, matematică și natură și societate. Timpul prevăzut pentru a răspunde la întrebări este 90 de minute.

Scrie clar și citeț.

Fii atent la exerciții, pentru că modul în care trebuie să răspunzi este diferit.

La unele exerciții răspunsul trebuie scris pe linie. La alte exerciții trebuie să colorezi cerculețul din fața răspunsului corect, ca în exemplul următor:

Ce **parte de vorbire** este cuvântul subliniat ?

Nina vorbește frumos.

Colorează cerculețul din fața răspunsului corect.

- substantiv
- verb
- adjectiv
- pronume

Rezolvare

- substantiv
- verb
- adjectiv
- pronume

Fiecare exercițiu trebuie să îl citești cu atenție ca să știi care sunt cerințele și cum trebuie să răspunzi.

Îți dorim succes!

LIMBA ROMÂNĂ

1. În fiecare pereche de cuvinte se află un cuvânt scris corect. Subliniază **cuvintele scrise corect**.

într-un – întrun împărat – împărat limba – linba

2. Colorează cerculețul din fața propoziției în care **substantivul este la numărul plural**.

- Am așteptat primăvara cu nerăbdare.
- Ana a cumpărat un bloc de desen.
- Casa mea este frumoasă.
- Păsările călătoare au plecat de la noi.

3. Subliniază **pronumele** din propoziția următoare.

În curând el va veni.

4. Colorează cerculețul din fața răspunsului corect.

În propoziția „Bunicul stă pe prispă.”, cuvântul subliniat este:

- predicat
- atribut
- subiect
- complement

5. Citiți textul, apoi răspundeți la întrebarea dată colorând cerculețul din fața răspunsului corect.

Jocurile Olimpice de iarnă reprezintă un eveniment sportiv care se desfășoară o dată la 4 ani. Primele jocuri olimpice de iarnă au avut loc în 1924, în Franța. Până în 1992, jocurile s-au desfășurat în aceeași ani cu jocurile olimpice de vară. Din anul 1994, ele au loc tot la patru ani, dar decalate cu doi ani față de jocurile de vară.

Ce exprimă textul de mai sus ?

Colorează cerculețul din fața răspunsului corect.

- transmite informații
- un mesaj literar
- exprimă sentimente

6. Cărei **specii literare** îi aparține construcția: „Apa trece pietrele rămân”.

Colorează cerculețul din fața răspunsului corect

- fabulă
- proverb
- doină

7. Ce **anotimp** descrie poetul în versurile de mai jos?

Totu-i alb în jur, cât vezi.
Moi podoabe pomii-ncarcă
Și visează sub zăpezi
Satele-adormite parcă.

Colorează cerculețul din fața răspunsului corect.

- toamna
- vara
- iarna
- primăvara

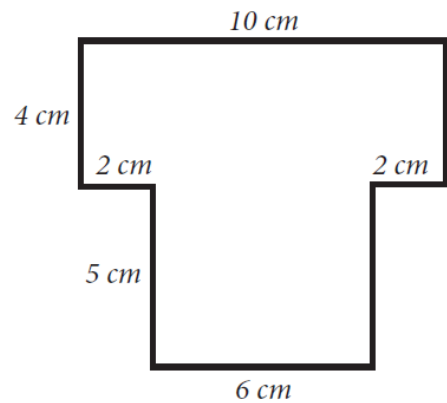
MATEMATICĂ

8. Calculează:

a) $348 \cdot 6$ _____.

b) $348 : 6$ _____.

9. Calculează perimetrul figurii date.



Perimetrul figurii este de _____ cm.

10. Milan a economisit și a reușit să pună deoparte banii reprezentați în imagine.

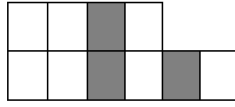
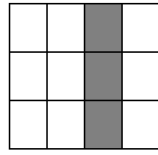
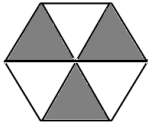


Câți bani a economisit Milan ?
Colorează cerculețul din fața răspunsului corect.

- 750 dinari
- 550 dinari
- 570 dinari
- 350 dinari

11. În care imagine este colorată cu gri $\frac{3}{10}$ din figură ?

Colorează cerculețul din fața răspunsului corect.



12. Mira de la casa ei până la casa bunicii a mers pe jos 1 oră și 15 minute. La bunica s-a reținut 50 de minute, iar apoi s-a întors acasă cu mașina împreună cu tatăl ei în 25 de minute.

Câte minute a fost Mira plecată de acasă ?

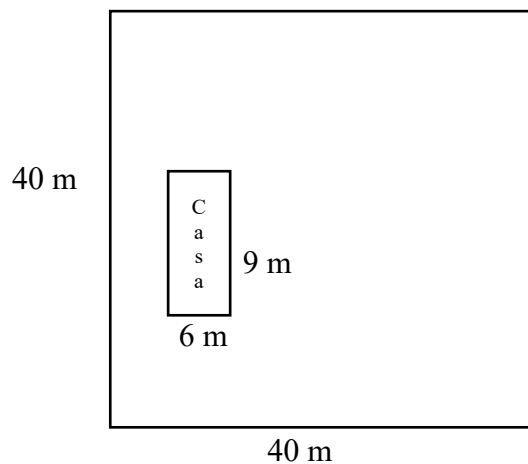
Mira a fost plecată de acasă _____ minute.

13. Din suma numerelor 1677 și 546 scade diferența numerelor 468 și 39.

Răspuns: _____

14. Pe un teren în formă de pătrat care are latura de 40m este construită o casă în formă de dreptunghi cu lungimea de 9m și lățimea de 6m.

Cât din suprafața terenului a mai rămas pentru gazon?



Suprafața gazonului este _____ m².

NATURĂ ȘI SOCIETATE

15. Cine a fost conducătorul Primei Răscoale Sârbești ?

Colorează cerculețul din fața răspunsului corect.

- Miloš Obrenović
- Karađorđe
- țarul Dušan
- Petar Prvi Karađorđević

16. Marco a marcat în calendar data când se sărbătorește Ziua școlii. Pe linie scrie care este data și ziua din săptămână.

Data: _____

Ziua din săptămână: _____

Martie 2008						
L	M	M	J	V	S	D
					1	2
3	4	5	6	7	8	9
10	11	12	13	14	15	16
17	18	19	20	21	22	23
24	25	26	27	28	29	30
31						

17. Unește prin liniuțe numele persoanelor importante cu descrierea corespunzătoare, după modelul dat. Numele unei personalități este în plus.

Nikola Tesla •

- A descoperit un tip de conifere care cresc pe muntele Tara.

Milutin Milanković •

- A descris formele de relief din părțile noastre și a studiat caracteristicile populației din țările slave de sud.

Stevan Mokranjac •

- În urma lui a lăsat un număr mare de invenții privind energia electrică.

Jovan Cvijić •

- Cele mai cunoscute lucrări ale sale sunt *Rukoveti* - cincisprezece suite de cântece bazate pe motive folclorice.

Josif Pančić •

18. Scrie cu numerele date dacă în imagine este reprezentată mișcarea rectilinie, curbilinie sau circulară.
Sub fiecare imagine scrie numărul corespunzător.

1 – rectilinie (lineară)
2 – curbilinie
3 – circulară



19. Citește textul cu atenție.

Pe un cercetător l-a interesat în ce condiții semințele plantelor vor încolți. În două borcane, pe un servetel de hârtie umed a pus câteva semințe de porumb. Un borcan l-a pus într-o cameră luminoasă, iar pe celălalt într-o cameră întunecoasă. În ambele camere temperatura era aceeași. După patru zile cercetătorul a observat că semințele din ambele borcane au încolțit.

La ce concluzie a ajuns cercetătorul în urma acestui experiment?
Completează propoziția următoare.

Sămânța plantei poate să încolțească fără sol și _____!

20. Ce există mai multe în Serbia - ape stătătoare sau lacuri ?

Costa spune că nu poate răspunde la această întrebare pentru că nu știe numărul exact de lacuri din Serbia. Marco consideră că Costa greșește, pentru că și fără numărarea lor se poate da un răspuns corect.

Cine are dreptate ?
Colorează cerculețul din fața răspunsului corect.

Marco

Costa

Explică de ce.
