



Republika e Serbisë
MINISTRIA E ARSIMIT, SHKENCËS
DHE ZHVILLIMIT TEKNOLOGJIK
ENTI PËR VLERËSIMIN E CILËSISË SË
ARSIMIT DHE TË EDUKIMIT

Emri dhe mbiemri

Klasa e IV

Numri i pikëve ne test

TEST
GRUPA 1
K1 e 4 shkollës fillore
GJUHË SHQIPE
MATEMATIKË
NATYRA DHE SHOQËRIA

Udhëzimet e punës

Para jush është një test që ka 20 detyra nga gjuha serbe, matematika dhe natyra dhe shoqëria. Për punë janë caktuar 90 minuta..

Shkruani në mënyrë të lexueshme.

Vëni re detyrat ndryshojnë në mënyrën se si duhet të përgjigjeni..

Ju do të zgjidhni disa detyra duke shkruar përgjigjen në rresht. Në detyra të tjera duhet të ngjyrosni rrethin përpara përgjigjes së sakt si në shembullin e mëposhtëm:

Çfarë lloj fjale i përket fjala e nënvizuar në fjali?
Nina **flet** shumë mirë.

Ngjyros rrethin para përgjigjes së saktë.

- emër
- folje
- mbiemër
- përemër

Zgjidhja

- emër
- folje
- mbiemër
- përemër

Në cdo detyrë duhet të lexoni me kujdes se çfarë kërkohet nga ju dhe si duhet të përgjigjeni kërkesës.

PUNË TE MBARË!

GJUHË SHQIPE

1. Nënvizoni në çdo dyshe fjalën e shkruar drejtë.

krip – kryp kaçurrele – kaqurrele karotë – karrotë

2. Ngjyros rrethin para fjalisë ku emri përdoret në **numrin shumës**.

- Një ditë luani u sëmur.
- Ftoi kafshët t'u thoshte dëshirat e fundit.
- Në fillim erdhi dhia.
- Pastaj erdhi edhe delja.

3. Ne fjalinë e dhënë nënvizo **përemrat**.

Në klasën tonë çdo fëmijë ka albumin e tij.

4. Fjala e nënvizuar në fjalinë e dhënë është:

Udhëtarët vështrojnë gjithmonë yllin me dmirim.

Ngjyros rrethin para përgjigjes së saktë.

- kryefjalë
- kallëzues
- pjesë shtuese e fjalisë

5. Teksti i dhënë, cilit lloj i përket:

Ai ishte bufalaq dhe jo shumë i gjatë, me sy të kaltër dhe me flokë të verdhë. Kishte shumë teka dhe donte të fuste gjithçka në gojë. Por ai ishte, gjithashtu, jashtëzakonisht i dashur dhe ledhatar. Sapo kishte mbushur 1 vjeç.

Ngjyros rrethët para përgjigjes së saktë.

- tregim realist
- përrallë
- përshkrim
- tekst shkencor

6. Lidh me shigjeta gjinitë letrare.

- | | | |
|--|--------------|--------------------------|
| <input type="radio"/> Punë, punë natë e ditë që të shohim pakëz dritë. | përrallë | |
| <input type="radio"/> Tridhjetë e dy shokë, punojnë në një gropë. | legjendë | |
| <input type="radio"/> Muji pi qumsht zane dhe ngre shkëmbin mbi kryje.
Ku ta hedh, u drejtohet zanave - te Lugjet e Verdha apo... | fjalë e urtë | |
| <input type="radio"/> Na ishte një herë një mbret, ai kishte një vajzë... | gjëegjëzë | <input type="checkbox"/> |

7. Si paraqitet harabeli ne tekstin e mëposhtëm?

Harabeli
Dhe sytë e vegjël hedh përmbi zabel,
Vështron se si mërزهet shpezëria,
Por s`di ta thot zogu-harabel:
“Të çmendur, ju, pse ikni nga shtëpia?”

Ngjyros rrethin para fjalisë së saktë.

- | | |
|--|--------------------------|
| <input type="radio"/> Zogu është shtegtar. | |
| <input type="radio"/> Harabeli ka karakteristikat njerëzore. | |
| <input type="radio"/> Harabeli ka ngjyra të bukura. | <input type="checkbox"/> |

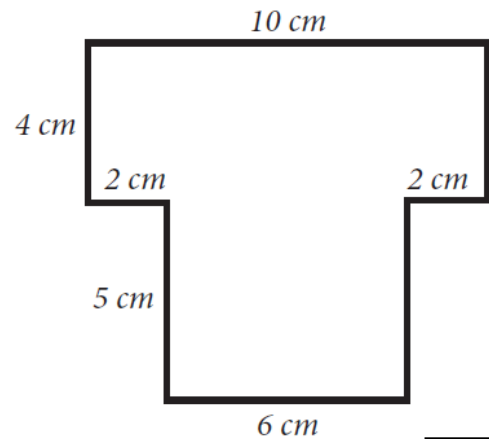
MATEMATIKË

8. Llogaritë:

a) $348 \cdot 6$ _____.

b) $348 : 6$ _____.

9. Llogarite perimetrin e figurës në foto.



Perimetri i figurës në foto është _____ cm.

10. Milani kurseu dhe arriti të mbledhë paratë e treguara në foto.

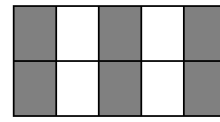
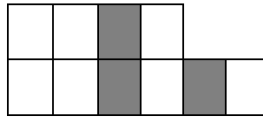
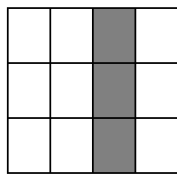
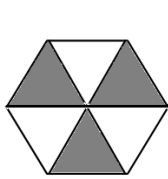


Sa para ka kursyer Milani në total?
Ngjyros rrethin para përgjigjes së saktë.

- 750 dinar
- 550 dinar
- 570 dinar
- 350 dinar

11. Në cilën figurë të hijezuar paraqitet thyesa $\frac{3}{10}$?

Ngjyros rrethin para përgjigjes se saktë.



12. Mira prej shtëpisë së vet deri tek shtëpia e gjyshes ka bërë rrugë 1 orë e 15 minuta. Te gjyshja ajo qëndroi 50 min, pastaj me babain në shtëpi u kthye me auto për 25 minuta.

Sa minuta Albiona qëndroi jashtë shtëpisë?

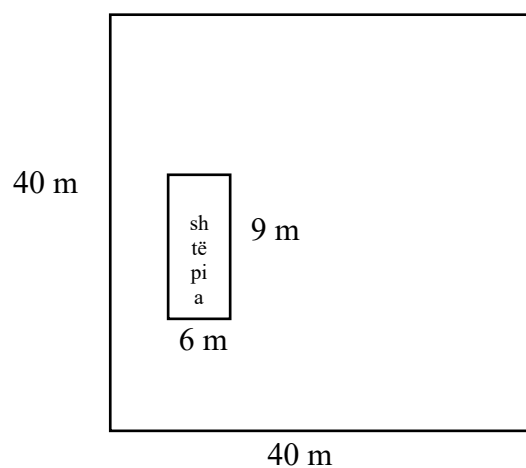
Mira jashtë shtëpisë qëndroi _____ minuta.

13. Nga shuma e numrave 1 677 dhe 546 zbritë ndryshimin e numrave 468 dhe 39.

Rezultati: _____

14. Një shtëpi në formë drejtkëndëshe 9 m e gjatë dhe 6 m e gjerë u ndërtua në një sipërfaqe katror me faqe 40 m.

Cila është zona e mbetur për gjelbërim?



Sipërfaqja e gjelbëruar është _____ m².

Natyra dhe shoqëria

15. Kush ishte udhëheqësi i kryengritjes së parë serbe?

Ngjyrose rrethin përpara përgjigjes së saktë.

- Millos Obrenoviq
- Karagjorgje
- Perandori Dushan
- Petar Prvi Karagjorgjeviq

16. Marko shënoi në kalendar datën e festës së ditës së shkollës. Në rresht shkruani datën, muajin dhe ditën e javës.

Data: _____

Dita e javës: _____

Mars						2008	
H	M	M	E	P	SH	D	
					1	2	
3	4	5	6	7	8	9	
10	11	12	13	14	15	16	
17	18	19	20	21	22	23	
24	25	26	27	28	29	30	
31							

17. Lidhni rreshtat e emrave të njerëzve të rëndësishëm me prshkrimin e duhur sic ka filluar. Emri i një personi është i tepërt.

Nikola Tesla

- Ai zbuloi nje specie të vecantë bredhi, e cili rritet ne malin Tara..

Milutin Milankoviq •

- Ai përshkroi format e relievit te rajonit tonë dhe studioi karakteristikat e popullësisë se vendeve sllave te jugut.

Stevan Mokranjac •

- Ai la pas nje numër të madh zbulimesh për energjinë elektrike..

Jovan Cvijiq •

- Veprat e tij me te njohura janë Rukoveti-pesëmbëdhjetë grupe këngësh të bazuara në këngë folklorike.

Josif Panciq •

18. Tregoni me numra nëse figura tregon një lëvizje drejtëvizore, të lakuar ose rrethore.
Vendosne numrin e duhur poshtë cdo figurës.

1 - drejtëvizore

2 – të lakuar

3 – rrethore



19. Lexoni tekstin me kujdes.

Nje studiues u interesua per kushtet në të cilat farat e bimëve do të mbijnë. Në dy kavanoza ai vendosi disa kokrra misri në një pecete të lagur. Ai vendosi nje kavanoz në një dhomë të ndricuar mirë dhe tjetrën në një dhomë të errët. Ai ruante të njejtën temperaturë në të dy dhomat. Pas katër ditësh, studiuesi zbuloi se kokrrat në të dy kavanozët mbijnë.

Cfarë zbuloi studiuesi ne këtë eksperiment? Plotësoni fjalinë e mëposhtme.

Bima mundë të mbijë pa tokë dhe _____!

20. Cfarë ka më shumë në Serbi – ujra të pa lëvizur apo liqene?

Kosta thotë se nuk mund ti përgjigjet kësaj pyetje sepse nuk e di numrin e saktë te liqeneve në Serbi. Marko mendon se Kosta e ka gabim pasi edhe pa llogaritur mund te përgjigjet.

Kush ka të drejtë?

Mgjyros rrethin para përgjigjes së saktë.

Marko

Kosta

Shpjegoje pse.
